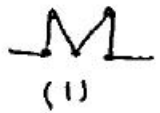
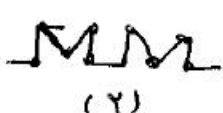
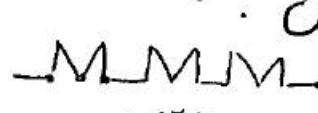


مسئله های زیر را حل کنید .
 ۱- ضایعی به طول ۲۰ متر را به ۵ قسمت مساوی تقسیم کرده ایم . برای انجام این کار چند برش لازم است .

۲- اگر امروز ساعت ۳:۳۸ بعد از ظهر یک مسکن باشد ۴۲ ساعت و ۴۹ دقیقه بعد چه روزی و چه زمانی رانشال می دهد .

۳- با توجه به الگوی زیر شکل چه رقم را رسم کن .
 (۱)  (۲)  (۳) 

رابطه ی این الگو را توضیح دهید .
 تعداد صوب کبریت ها در شکل ۵۲ را بدست آورید .

جزوه سیپی

کسرهای زیر را روی محور نشان دهید .

$\frac{3}{5}$ →
 $\frac{1}{2}$ →

عدد مخلوط را به کسر و کسر را به عدد مخلوط تبدیل کنید .

$\frac{12}{5} = \dots$ $3\frac{7}{8} = \dots$

بخش ضرب متوجه نیازمندان

عدد نویسی را می دانند
عملیات اعداد مرتب را انجام می دهند
تقریب اعداد را می دانند
انگوهار درست انجام می دهد .
کسر و اعداد مخلوط را می شناسد .